







In blok 1 herhaal ik:



$$8 \times 3 = 24$$


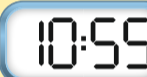
Blok 1.4 klokkijken op 5 minuten nauwkeurig.

Het is 5 voor half 9.  

Het is 10 over half 9.  

Blok 1.4 rekenen met tijd.



Het is 5 voor 11.  

Van 10:55 tot 11:00 is 5 minuten.
Van 11:00 tot 11:10 is 10 minuten.
Van 10:55 tot 11:10 is 15 minuten.

Blok 1.4 rekenen met de euromunten en eurobiljetten.

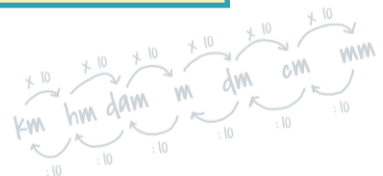


eurobiljetten 

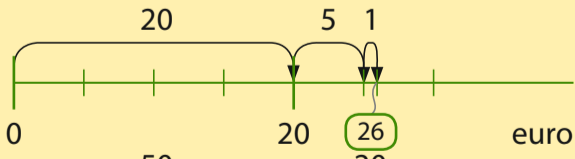
euromunten 

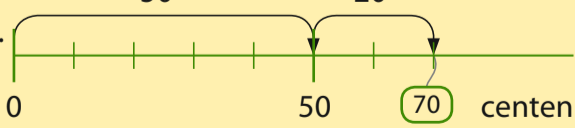
€ 30,25
Voor de komma staan de hele euro's € 30
Achter de komma staan de centen € 0,25 

Blok 1.4 rekenen met tijd en geld in sommen.



De teambegeleider trakteert het team op patat met een flesje fris. Het kost bij elkaar € 26,70. Hoe kan hij gepast betalen?

Stap 1 Maak een tekening van de vraag.  euro

Stap 2 Wat moet je uitrekenen?  centen

Welke biljetten en munten heb je nodig voor € 26,70?

Stap 3 Wat is je antwoord?
26 euro is 1 biljet van 20 euro, 1 biljet van 5 euro en 1 munt van 1 euro.
70 cent is 1 munt van 50 cent en 1 munt van 20 cent.

Stap 4 Klopt je antwoord?
 $€ 20 + € 5 + € 1 + € 0,50 + € 0,20 = € 26 + € 0,70 = € 26,70$



$$\frac{2}{3} : \frac{1}{3} = 2$$