

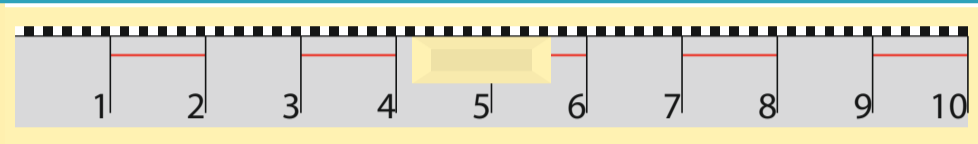


In blok 1 herhaal ik:



$$8 \times 3 = 24$$

Blok 1.2 meten en rekenen met m, dm en cm.



Een bordliniaal is 1 meter.
 $1 \text{ m} = 10 \text{ dm}$
 $1 \text{ m} = 100 \text{ cm}$
 $1 \text{ dm} = 10 \text{ cm}$

$$56 : 7 = 8$$

Blok 1.2 meten en rekenen met liter, dL en cL.



$1 \text{ L} = 100 \text{ cL}$
 $1 \text{ L} = 10 \text{ dL}$
 $1 \text{ dL} = 10 \text{ cL}$



liter (L)



deciliter (dL)



centiliter (cL)

$$800 + 50 + 4 = 854$$

Blok 1.2 wegen en rekenen met kg.



= 1 kg

$$\begin{array}{r} 724 \\ 193 \\ \hline 917 \end{array} +$$




$$75\% \text{ van } 80 = 60$$

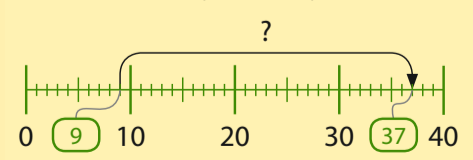
Blok 1.2 lengtematen, inhoudsmaten en gewichten gebruiken in sommen.



De hond Bello is 3 maanden oud.
 Hij weegt 9 kg.
 Als hij 1 jaar is, weegt hij 37 kg.
 Hoeveel kg is hij zwaarder geworden?



Stap 1 Kijk naar de tekening en vul de getallenlijn in.



Stap 2 Wat moet je uitrekenen?
 $37 - 9 =$

Stap 3 Wat is het antwoord?
 Bello is 28 kg zwaarder geworden.



$$\frac{2}{3} : \frac{1}{3} = 2$$