



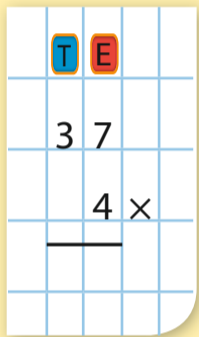
In blok 8 leer ik:

$$8 \times 3 = 24$$

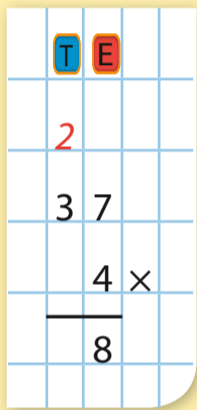
**Blok 8.1** cijferend vermenigvuldigen met 1 keer onthouden.

Reken uit  $4 \times 37 =$   
Maak eerst een schatting.  
 $4 \times 37 \approx 4 \times 40 = 160$

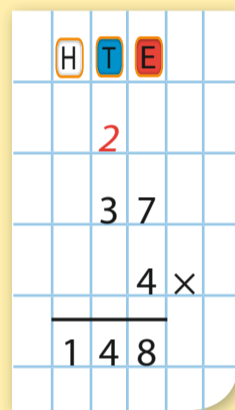
Schrijf de getallen onder elkaar.



Vermenigvuldig  $4 \times 7 = 28$   
Schrijf de eenheden op.  
Onthoud de 2 tientallen.



Vermenigvuldig  $4 \times 3$  tientallen = 12 tientallen.  
 $12 + 2 = 14$  tientallen.



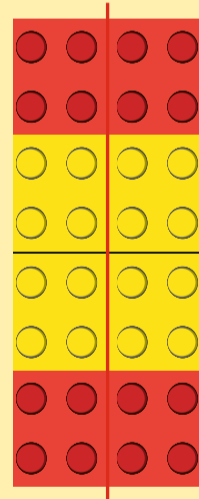
$4 \times 37 = 148$ ; 148 ligt in de buurt van de schatting.

$$56 : 7 = 8$$

**Blok 8.2** symmetrielijnen in figuren tekenen en werken met aangezichten.

$$800 + 50 + 4 = 854$$

Deze figuur van legoblokjes is symmetrisch.  
In het midden van de figuur is een lijn getekend.  
Aan beide kanten van de lijn is de figuur hetzelfde. Deze lijn heet de symmetrielijijn.




**Blok 8.3** delen met een rest.

$$\begin{array}{r} 724 \\ 193 \\ \hline 917 \end{array}$$

$35 : 5 = 7$   
35 kun je verdelen in 7 groepjes van 5.



$38 : 5 = 7$  rest 3  
38 kun je verdelen in 7 groepjes van 5, je houdt 3 over.



$$5000 + 10 = 5010$$

$$75\% \text{ van } 80 = 60$$

$$\frac{2}{3} : \frac{1}{3} = 2$$

